



のこりはいくつ

しきとこたえをかきましょう(4)

ねん

くみ なまえ

ペンギンはなんわのこりましたか。しきをかいてこたえましょう。


はじめに4わ。



2わいなくなると

しき  -  =  こたえ  わ


はじめに5わ。



4わいなくなると

しき  -  =  こたえ  わ

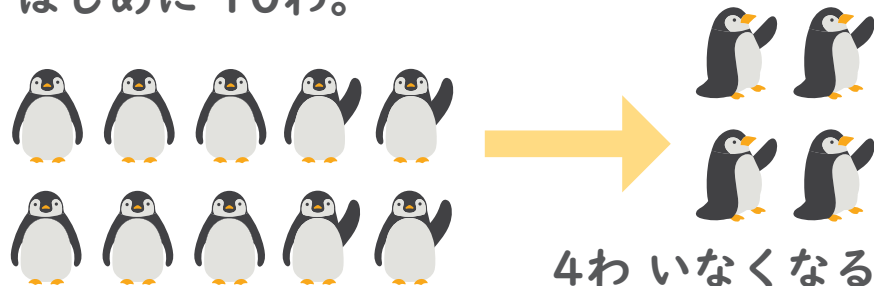
はじめに7わ。



2わいなくなると

しき  -  =  こたえ  わ

はじめに10わ。



4わいなくなると

しき  -  =  こたえ  わ